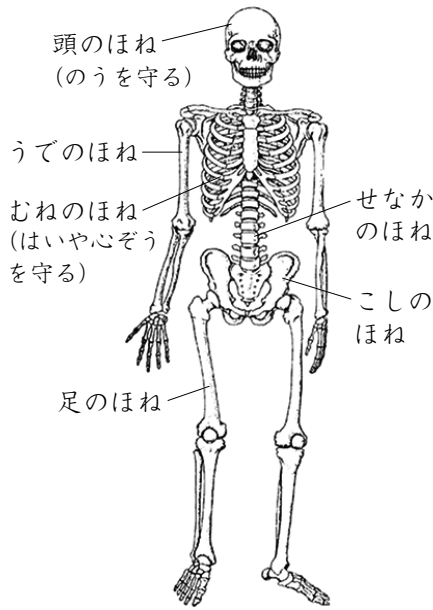


たしかめ

★ヒトの体のつくりをみてみましょう。

- ヒトの体には、かたくてじょうぶな( )と、やわらかい( )があります。

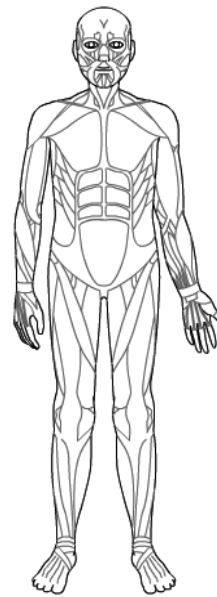
▼ヒトのほね



たくさんのほねがあるね。ほねは、体をささえたり守ったりしているんだよ。



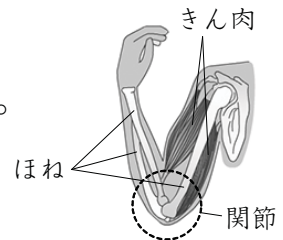
▼ヒトのきん肉



きん肉も、かおや手など、全身にあるね。

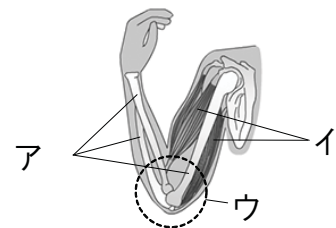


- ほねとほねのつなぎ目を、( )といいます。ヒトの体は、<sup>かんせつ</sup>関節で曲がります。



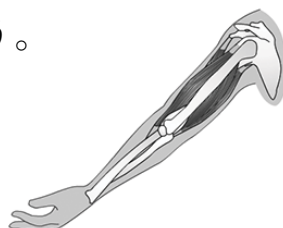
① 右の図は、ヒトのかたから手のつくりです。

- (1) 右の図の、かたくてじょうぶなアの部分と、やわらかいイの部分は何といいますか。ア( ) イ( )



- (2) (1)のアのつなぎ目の、ウの部分は何といいますか。ウ( )

- (3) 下の図の中で、曲げることができるのはどこですか。曲がるところに○をつけてみましょう。

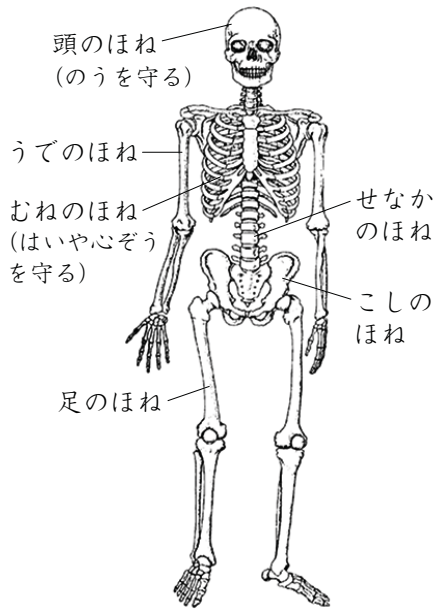


たしかめ

★ヒトの体のつくりをみてみましょう。

- ヒトの体には、かたくてじょうぶな( **ほね** )と、やわらかい( **きん肉** )があります。

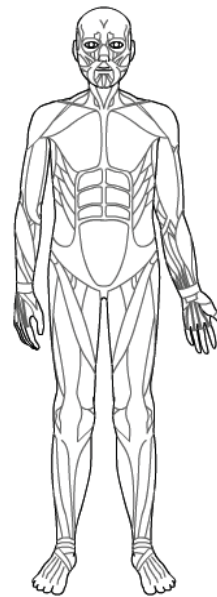
▼ヒトのほね



たくさんのほねがあるね。ほねは、体をささえたり守ったりしているんだよ。



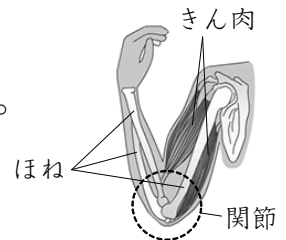
▼ヒトのきん肉



きん肉も、かおや手など、全身にあるね。

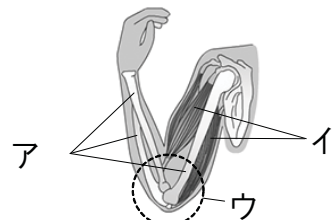


- ほねとほねのつなぎ目を、( **かんせつ 関節** )といます。ヒトの体は、**かんせつ 関節**で曲がります。



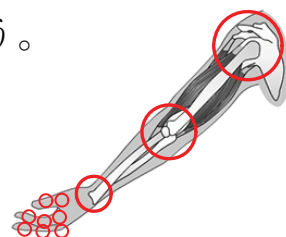
① 右の図は、ヒトのかたから手のつくりです。

- (1) 右の図の、かたくてじょうぶなアの部分と、やわらかいイの部分は何といますか。  
ア( **ほね** ) イ( **きん肉** )



- (2) (1)のアのつなぎ目の、ウの部分は何といますか。ウ( **かんせつ 関節** )

- (3) 下の図の中で、曲げることができるのはどこですか。曲がるところに○をつけてみましょう。



かんせつ 関節がたくさんあることがたしかめられたかな？

