

10までの かず

きょうかしよ 教科書 25ページ




えんぴつと けしごむが たくさんあるね。
どちらが おおいか たしかめよう。




「なかよし」で ぶろっくを つかって
どちらが おおいか しらべたね。

きょうかしよ 8・9ぺえじと おなじように
ぶろっくを おいて たしかめて みよう。



えんぴつは
きいろ



けしごむは
しろ

ならべたら したに いちれつに ならべよう。






		ぶろっく
えんぴつ		
けしごむ		

えんぴつの ほうが おおいね。
えんぴつと けしごむは いくつ あるのかな。



えんぴつと けしごむが それぞれ いくつ
あるか かぞえてみよう。
したの □のなかに かずを かこう。



えんぴつが 6 けしごむが 5
えんぴつのほうが おおいから
5より 6のほうが おおきいんだね。



◆25ページの えをみて おおきいほうに ○をつけましょう。
(きょうかしょに かきましょう。)



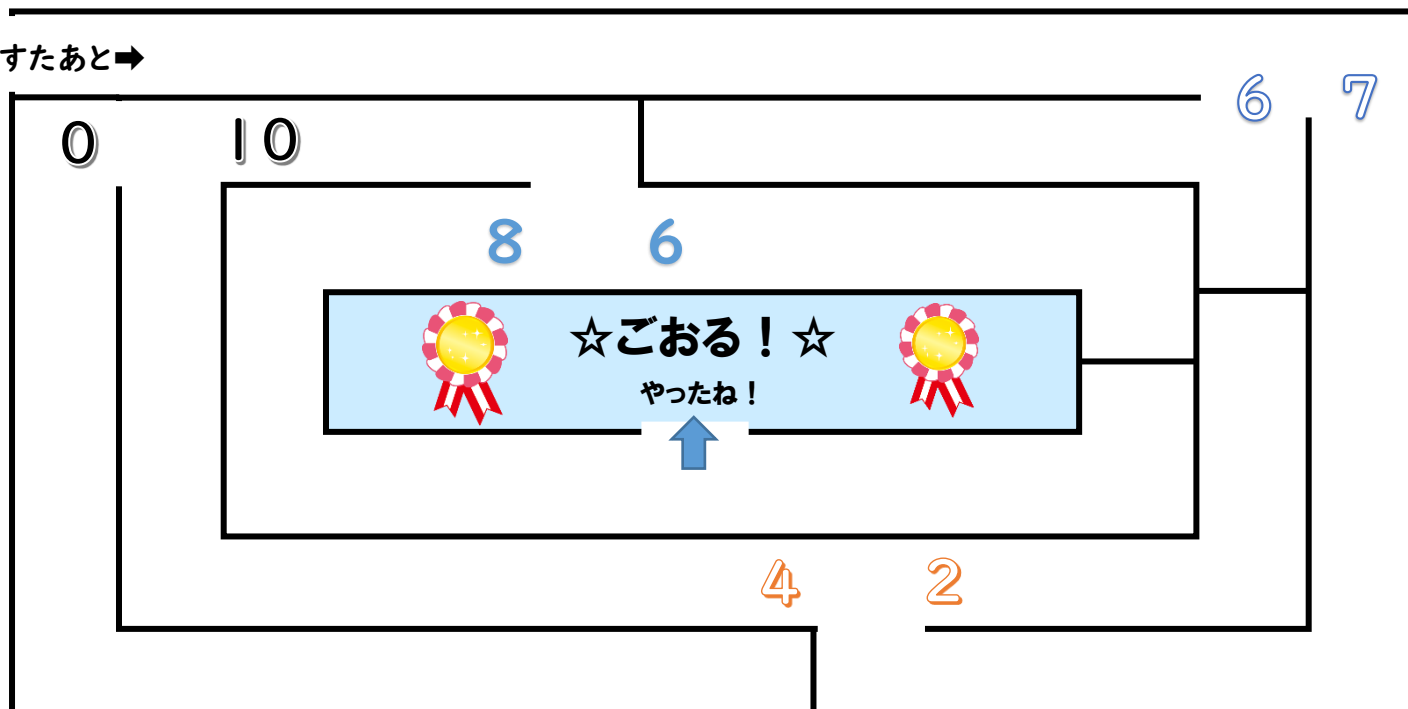
すてっぷ あっぷ

◆おおきさ くらべ げえむをしよう。

- 1 ぷりんとの 3まいめに ある すうじかあどを はさみで きる。
- 2 かあどを よく まぜあわせて したむきに する。
- 3 あいずで かあどを いちまいずつ だす。
- 4 おおきい かずを だした ほうが 勝ち。

◆おおきい かずを とおって ごおるへ たどりつこう。

すたあと➡



まとめ



かずを くらべると おおい・すくない や
おおきい・ちいさい が わかるね。

◆すうじ かあと

(ひとりめの ぶんの かあと)

1	2	3	4	5
6	7	8	9	10

(ふたりめの ぶんの かあと)

1	2	3	4	5
6	7	8	9	10