

1 まみさんは、438円を持って買い物に行きました。
286円のパイナップルをかうと、のこりは何円になりますか。



200より小さくなりそう

筆算のしかた

〈式〉 438 - 286

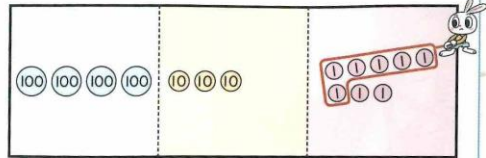
- ①くり下がりをした位の数にななめ線を引く
- ②1引いた数を小さく上を書く

1

一の位の計算

$$\begin{array}{r} 438 \\ - 286 \\ \hline 2 \end{array}$$

8-6=2

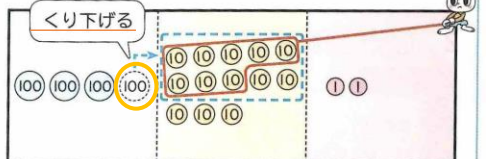


2

十の位の計算

$$\begin{array}{r} 3438 \\ - 286 \\ \hline 52 \end{array}$$

百の位から1くり下げて、13-8=5

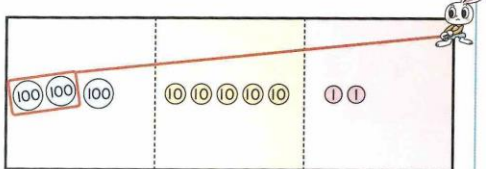


3

百の位の計算

$$\begin{array}{r} 3438 \\ - 286 \\ \hline 152 \end{array}$$

3-2=1



〈筆算〉

	3		
	4	3	8
-	2	8	6
	1	5	2

さらに

考えよう①

	3		
	4	1	0
-	2	8	6
	1	5	2

十の位に1を書くと、百の位から十の位に10くり下がったことをわすれないよ。



〈もんだい①〉

	5	0	9
-	2	7	7

〈もんだい②〉

	7	5	7
-	2	9	5

〈もんだい③〉

	6	4	2
-	4	1	5

やってみよう!
・えんぴつ1 (p.32)

・ケド11

