



分数と整数のかけ算・わり算を考えよう<sup>2</sup> (名前 )


**2**  $\frac{9}{8} \times 4$  の計算のしかたを考えましょう。

めあて  
 分数×整数の計算のしかたをくふうしよう。

**1** 次 の 2 人 の 計算 の しか た を 説明 し ま し ょ う 。



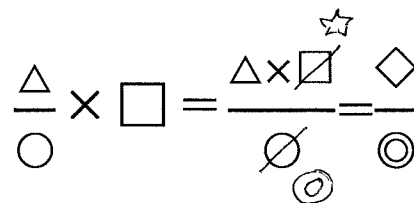
あおい



ゆうと



<p>あおいさんの計算は</p> <p>まず</p> <p>次に</p> <p>だから</p>	<p>ゆうとさんの計算は</p> <p>まず</p> <p>次に</p> <p>だから</p>
---	---

<p><b>発見</b> 分数×整数の計算では</p> <p>( ) と</p> <p>計算が ( ) になる。</p> <p>(教科書の29ページをみてください)</p>	
--	--

※この後の算数プリントや計算ドリルの問題は、ゆうとさんの計算の仕方でも解いてみよう。