


が 月	に 日
--------	--------

ねん 年	くみ 組
---------	---------

なまえ 名前

てん 点








ぶんき②

① どうぶつシールで いろぬり ゲームを します。

スタート				
------	--	--	--	--

ゲームのルール

	をとったら	1すすむ
	をとったら	2すすむ
	をとったら	いろをぬる

さいしょに  つぎに  をとりました
どのように ぬられましたか？

- ア


スタート				
------	--	--	--	--
- イ

スタート				
------	--	--	--	--
- ウ

スタート				
------	--	--	--	--
- エ

スタート				
------	--	--	--	--

こたえ
()



ばんき②

が 月 につ 日

ねん 年 くみ 組




なまえ 名前



てん 点

① どうぶつシールで いろぬり ゲームを します。

スタート				
------	--	--	--	--

ゲームのルール

	をとったら	1すすむ
	をとったら	2すすむ
	をとったら	いろを ぬる

さいしょに  つぎに  をとりました
どのように ぬられましたか？

- ア


スタート				
------	--	--	--	--
- イ

スタート				
------	--	--	--	--
- ウ

スタート				
------	--	--	--	--
- エ

スタート				
------	--	--	--	--

こたえ
(イ)



イベントしより
④


1 ロボットは つぎの めいれいの
とおりに うごきます。

ロボットは まっすぐすすみます。
すすんだみちを もどることはできません。

さいしょ かべにぶつかると 右を むきます。
つぎに かべにぶつかると 左を むきます。
そのつぎに かべにぶつかると 右を むきます。
この3つを くりかえします。

※すぐくむずかしい


ア～エの どこに つきますか？



スタート

こたえ

()



イベントしより
④

が 月	に ち 日	ね ん 年	く み 組
なまえ 名前			
てん 点			


① ロボットは つぎの めいれいの
とおりに うごきます。

ロボットは まっすぐすすみます。
すすんだみちを もどることはできません。

さいしょ かべにぶつかると 右を むきます。
つぎに かべにぶつかると 左を むきます。
そのつぎに かべにぶつかると 右を むきます。
この3つを くりかえします。

※すごくむずかしい

㍑～㍑の どこに つきますか？



スタート

こたえ

(㍑)