

たし算のひ算

おぼえているかな

レベル1 (くり上がりなし)

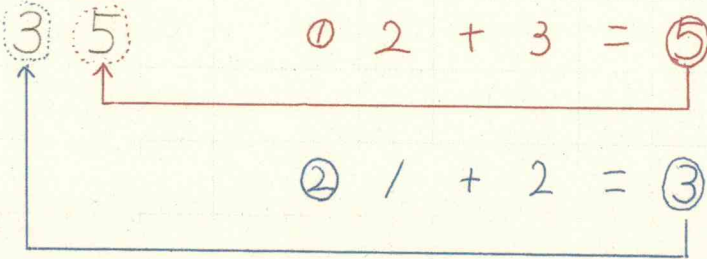
$$\begin{array}{r} \textcircled{2} \textcircled{1} \\ / \textcircled{2} \textcircled{3} \\ + \textcircled{2} \textcircled{3} \\ \hline \end{array}$$

ルール

★一の位からけい算するよ。

$$\textcircled{1} 2 + 3 = \textcircled{5}$$

$$\textcircled{2} / + 2 = \textcircled{3}$$



れんしゅう (ノートにやってみよう)

/	$\textcircled{1} 3 2$	$\textcircled{2} 6 5$	$\textcircled{3} 3 7$	$\textcircled{4} 4 1$
	$+ 1 5$	$+ 2 1$	$+ 5 2$	$+ 3 8$
	<hr/>	<hr/>	<hr/>	<hr/>

レベル2 (くり上がりあり)

$$38 + 45$$

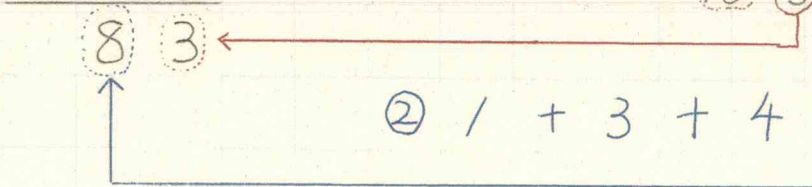
$$\begin{array}{r} \textcircled{2} \textcircled{1} \\ / \textcircled{3} \textcircled{8} \\ + \textcircled{4} \textcircled{5} \\ \hline \end{array}$$

10のたまりが  
1つ入るね

$$\textcircled{1} 8 + 5 = 13$$

$$\textcircled{10} \textcircled{3}$$

$$\textcircled{2} / + 3 + 4 = \textcircled{8}$$



2	れんしゅう	$\textcircled{1} 2 7$	$\textcircled{2} 7 8$
	(ノートにや ってみよう)	$+ 3 5$	$+ 1 9$
		<hr/>	<hr/>



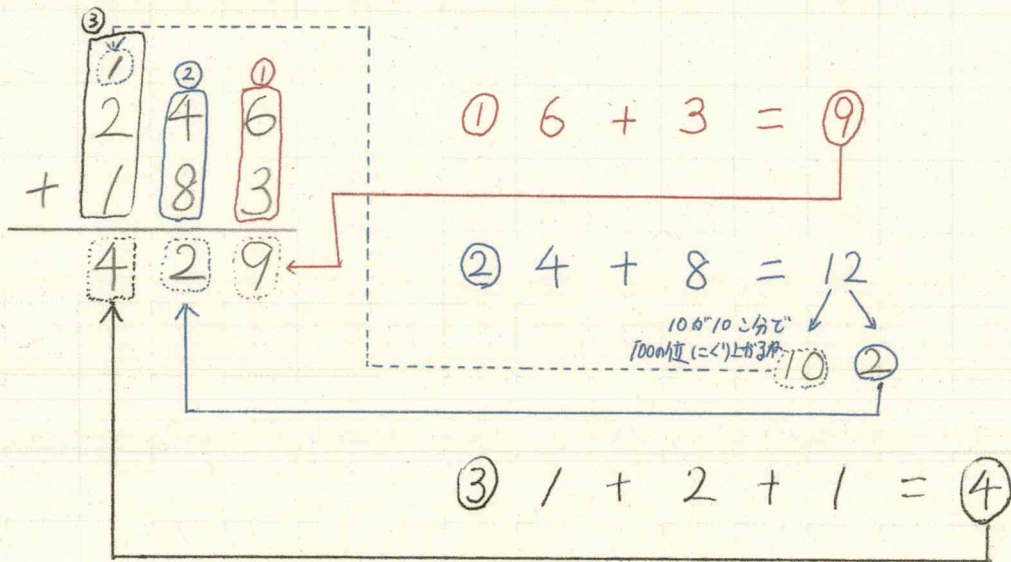
P. 28 大きな数のたし算とひき算を考  
えよう。

1 (3けたのひっ算)

ノートにやってみよう。

④ 3けたのひっ算もこれまでのひっ  
算と同じようにけい算できます。  
★一の位からけい算します。  
※位をそろえて書きます。

$$\begin{array}{r} \textcircled{1} \quad 2 \quad 4 \quad 6 \quad + \quad 1 \quad 8 \quad 3 \\ \text{百の位} \quad \text{十の位} \quad \text{一の位} \quad \quad \text{百の位} \quad \text{十の位} \quad \text{一の位} \end{array}$$



②  $375 + 490$   
①と同じようにやってみよう。

P. 28 1

$$\textcircled{3} \begin{array}{r} / 4 7 + 6 1 \\ \text{百の位} \quad \text{十の位} \quad \text{一の位} \quad \text{十の位} \quad \text{一の位} \end{array}$$

百の位 ↓  
十の位 ↓  
一の位 ↓

☆ 同じ位どうしを  
たすよ。

$$\begin{array}{r} / 4 7 \\ + 6 1 \\ \hline 2 0 8 \end{array}$$

④ ⑤ ⑥ も 同じ よう に や っ て み よ う 。

できたら P. 237 カ を や ろ う 。

答え 1 ① 429 ② 865 ③ 208 NO.4  
④ 407 ⑤ 852 ⑥ 780